

ПРИЛОЖЕНИЕ А
ФОНД ОЦЕНОЧНЫХ МАТЕРИАЛОВ ДЛЯ ПРОМЕЖУТОЧНОЙ АТТЕСТАЦИИ
ПО ДИСЦИПЛИНЕ «Материаловедение»

1. Перечень оценочных средств для компетенций, формируемых в результате освоения дисциплины

| Код контролируемой компетенции | Способ оценивания | Оценочное средство |
|---|-------------------|---|
| ОПК-1: Способен применять естественнонаучные и общинженерные знания, методы математического анализа и моделирования в профессиональной деятельности | Зачет | Комплект контролирующих материалов для зачета |
| ОПК-12: Способен обеспечивать повышение надежности технологических машин и оборудования на стадиях проектирования, изготовления и эксплуатации | Зачет | Комплект контролирующих материалов для зачета |

2. Описание показателей и критериев оценивания компетенций, описание шкал оценивания

Оцениваемые компетенции представлены в разделе «Перечень планируемых результатов обучения по дисциплине, соотнесенных с индикаторами достижения компетенций» рабочей программы дисциплины «Материаловедение».

При оценивании сформированности компетенций по дисциплине «Материаловедение» используется 100-балльная шкала.

| Критерий | Оценка по 100-балльной шкале | Оценка по традиционной шкале |
|--|------------------------------|------------------------------|
| Студент освоил изучаемый материал, выполняет задания в соответствии с индикаторами достижения компетенций, может допускать отдельные ошибки. | 25-100 | <i>Зачтено</i> |
| Студент не освоил основное содержание изученного материала, задания в соответствии с индикаторами достижения компетенций не выполнены или выполнены неверно. | 0-24 | <i>Не зачтено</i> |

3. Типовые контрольные задания или иные материалы, необходимые для оценки уровня достижения компетенций в соответствии с индикаторами

1. Примеры контрольных заданий

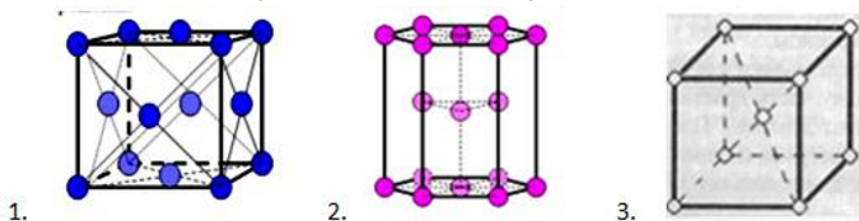
| Компетенция | Индикатор достижения компетенции |
|--|---|
| ОПК-1 Способен применять естественнонаучные и общинженерные знания, методы математического анализа и моделирования в профессиональной деятельности | ОПК-1.3 Применяет естественнонаучные и общинженерные знания при решении профессиональных задач |
| ОПК-12 Способен обеспечивать повышение надежности технологических машин и оборудования на стадиях проектирования, изготовления и эксплуатации | ОПК-12.1 Демонстрирует знание способов повышения надежности технологических машин и оборудования на стадиях проектирования, изготовления и эксплуатации |

ПРИМЕРЫ ВОПРОСОВ ИЗ ФОНД ОЦЕНОЧНЫХ МАТЕРИАЛОВ ДЛЯ ПРОМЕЖУТОЧНОЙ АТТЕСТАЦИИ (ЗАЧЁТА) ПО ДИСЦИПЛИНЕ «МАТЕРИАЛОВЕДЕНИЕ»


Направления: 15.03.02 ТМиО (ТСПП)

Индикаторы достижения компетенции: ОПК-1.3. Применяет естественнонаучные и общинженерные знания при решении профессиональных задач. ОПК-12.1 Демонстрирует знание способов повышения надежности технологических машин и оборудования на стадиях проектирования, изготовления и эксплуатации.

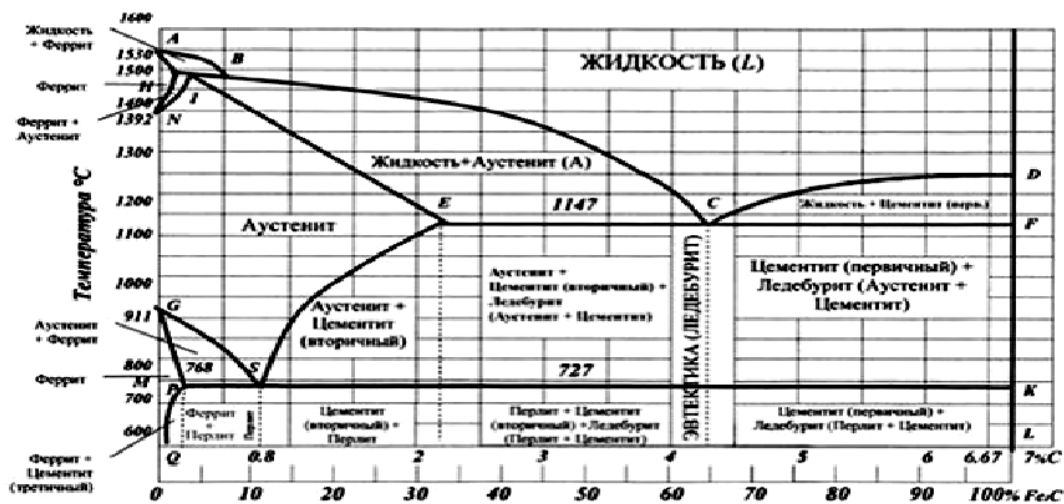
1. В микроструктуре стальных деталей технологических машин обычно присутствуют феррит, аустенит, цементит. Применяя естественнонаучные знания и знание способов повышения надёжности проанализируйте и определите, где кристаллическая решётка феррита, аустенита, цементита соответственно. (ОПК-1.3, ОПК-12.1)



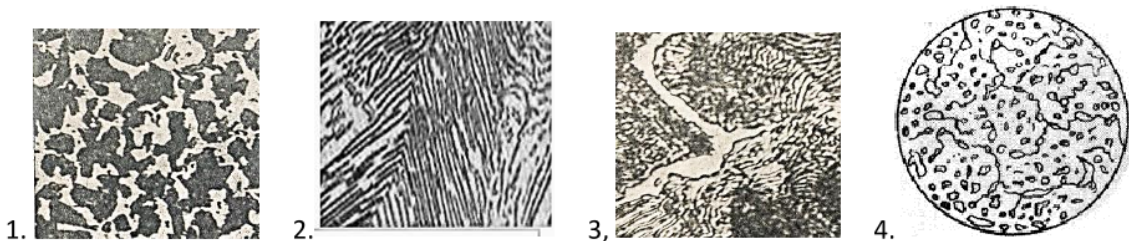
2. В кристаллах стальных деталей технологических машин присутствуют дефекты кристаллического строения. Применяя естественнонаучные знания и знание способов повышения надёжности проанализируйте, определите и опишите дефекты кристаллического строения, приведенные на рисунках. (ОПК-1.3, ОПК-12.1)



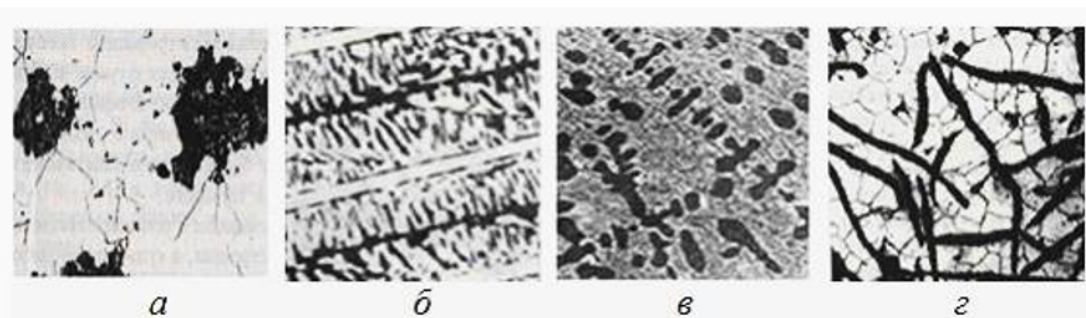
3. При термической обработке стальных деталей технологических машин необходимо знать температурные критические точки сталей. Применяя общинженерные знания и знание способов повышения надёжности укажите какие линии диаграммы Fe - Fe₃C являются геометрическим местом критических точек A₁, A₃, A_{ст}. (ОПК-1.3, ОПК-12.1)



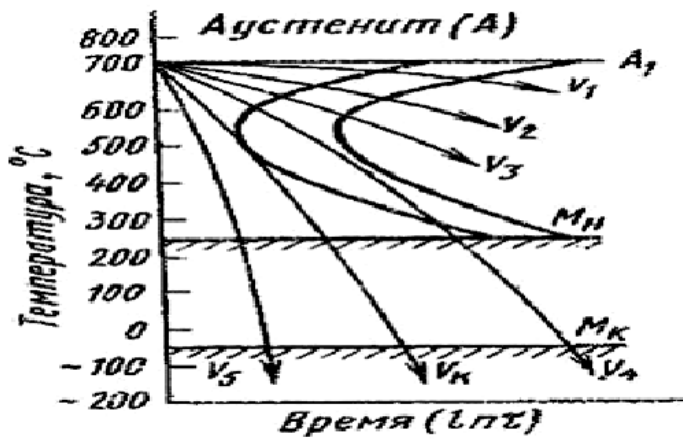
4. Свойства стальных деталей технологических машин определяются их микроструктурой. Применяя естественнонаучные знания и знание способов повышения надёжности проанализируйте, определите и опишите каждую приведённую микроструктуру. (ОПК-1.3, ОПК-12.1)



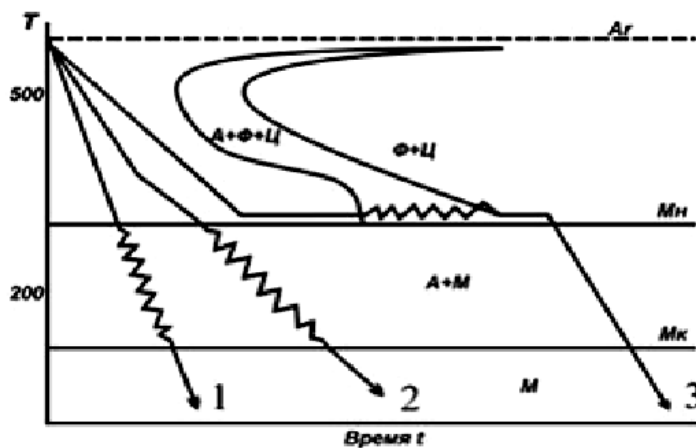
5. Свойства чугуновых деталей технологических машин определяются их микроструктурой. Применяя естественнонаучные знания и знание способов повышения надёжности проанализируйте, определите и опишите каждую приведённую микроструктуру. (ОПК-1.3, ОПК-12.1)



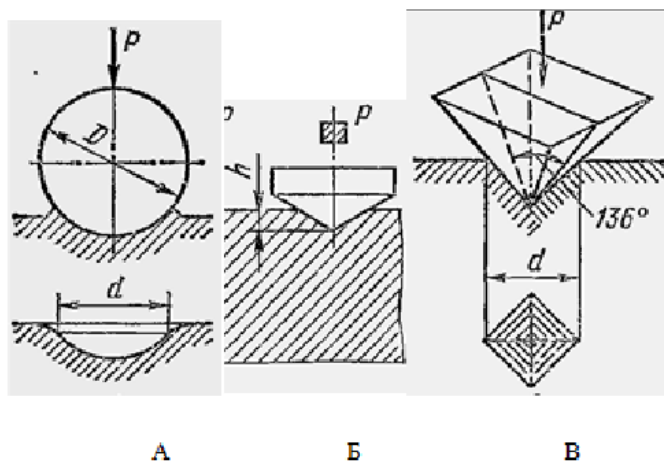
6. При термической обработке стальных деталей технологических машин необходимо целенаправленно выбирать скорость охлаждения. Применяя общеинженерные знания и знание способов повышения надёжности укажите по диаграмме распада аустенита при какой из приведенных скоростей охлаждения можно получить перлит, сорбит, тростит, мартенсит соответственно, опишите эти структуры. (ОПК-1.3, ОПК-12.1)



7. При термической обработке стальных деталей технологических машин необходимо правильно выбирать способ закалки. Применяя общинженерные знания и знание способов повышения надёжности укажите, к какому способу закалки относится каждая из приведённых на рисунке кривых охлаждения. Опишите достоинства и недостатки каждого способа. (ОПК-1.3, ОПК-12.1)



8. При изготовлении деталей технологических машин обычно возникает необходимость в измерении их твёрдости. Применяя общинженерные знания и знание способов повышения надёжности назовите и опишите каждый из методов определения твёрдости, схемы которых приведены на рисунке. (ОПК-1.3, ОПК-12.1)



4. Файл и/или БТЗ с полным комплектом оценочных материалов прилагается.